

## ЗАДАНИЯ

для проведения первого этапа республиканской олимпиады  
по учебному предмету «Трудовое обучение. Обслуживающий труд»

Дата проведения: 11 октября 2024 г.

Время выполнения заданий: 10.00 – 11.00.

### Задания теоретического тура

*Уважаемая участница олимпиады!*

*Внимательно прочитав вопрос, обведите кружочком номер правильного ответа, используя шариковую ручку. В предложенных тестовых вопросах с выбором ответа (задания 1;2;4-8;10-14;16-18) правильным является лишь один ответ, в заданиях 3;9 правильными являются несколько ответов.*

*Инструкции по выполнению отдельных заданий: в заданиях 15 и 20: впишите термины, являющийся правильным ответом; в заданиях 19;21 и 23: установите соответствие понятий из двух столбцов таблицы, впишите ответ в строку в конце данного задания в виде сочетаний цифр и букв.*

1. Выберите правильный вариант ответа.

Укажите пищевой продукт, который быстро восполняет энергетические затраты и полезен для детского организма.

А) зеленый чай;

В) белый чай;

Б) черный чай;

Г) кофе;

Д) какао.

ОТВЕТ Д 5 кл. с.29

ВСЕГО максимально 1 балл

2. Выберите правильный вариант ответа.

Куриные яйца имеют следующую классификацию в зависимости от:

А) срока снесения, качества, массы и категории;

Б) срока снесения, сорта, массы и категории;

В) срока хранения, сорта, массы и категории;

Г) срока хранения, качества, массы и категории;

Д) срока хранения, условия хранения, массы и категории.

ОТВЕТ Г 5 кл. с.33

ВСЕГО максимально 1 балл

3. *Обведите кружочком номера правильных ответов:*

Укажите блюдо, которое не относится к заправочным супам:

- а) щи; г) свекольник; ж) суп-пюре.  
б) борщи; д) рассольник  
в) солянка; е) гороховый суп;

ОТВЕТ Г, Ж. 7 кл. 43

ВСЕГО максимально 1 балл (за каждый правильный ответ 0,5 балла)

4. *Выберите правильный вариант ответа.*

При приготовлении блюда «Драчена с яблоками» яблоки нарезают:

- А) кубиками; Г) ломтиками;  
Б) брусочками; Д) дольками;  
В) кружочками; Е) соломкой.

ОТВЕТ Е 5 кл. с.59

ВСЕГО максимально 1 балл

5. *Выберите правильный вариант ответа.*

Назовите молочный продукт, которому требуется первичная обработка.

- А) творог; В) простокваша; Д) йогурт;  
Б) молоко; Г) сливки ; Е) сметана.

ОТВЕТ А 6 кл. с.31

ВСЕГО максимально 1 балл

6. *Выберите правильный вариант ответа.*

Белорусское национальное блюдо «Жур» - это...

- а) кисель из смородины; в) пшеничный кисель;  
б) кисель из клюквы; г) овсяный кисель;  
д) гречневый кисель.

ОТВЕТ Г 7 кл. с.84

ВСЕГО максимально 1 балл

7. *Выберите правильный вариант ответа.*

Укажите способ тепловой обработки, цель которой – предотвращение потемнения некоторых овощей, фруктов и сохранение витаминов.

- А) варка на водяной бане; В) припускание;  
Б) варка на пару; Г) бланширование;  
Д) пассерование.

ОТВЕТ Г 7 кл. с.41

ВСЕГО максимально 1 балл

8. *Выберите правильный вариант ответа.*

Назовите вид супа, характерной особенностью которого – это использование пассерованных моркови, кореньев, лука.

- А) холодный суп; В) заправочный суп;  
Б) пюреобразный суп; Г) молочный овощной суп.

ОТВЕТ В 7 кл. с.43

ВСЕГО максимально 1 балл

9. Обведите кружочком номера правильных ответов:

Укажите все признаки определения лицевой стороны.

- А) гладкая поверхность;
- Б) поверхность гладкая или с коротким ворсом;
- В) гладкая поверхность кромки;
- Г) поверхность с блеском;
- Д) матовая поверхность;
- Е) поверхность с длинным ворсом;
- Ж) поверхность с узелками и ворсинками.

ОТВЕТ А,В,Г,Е, 5 кл. с.79

ВСЕГО максимально 1 балл (за каждый правильный ответ 0,25 балла)

10. Выберите правильный вариант ответа.

Укажите ткани, которые имеют сравнительно гладкую поверхность с ярко выраженным ткацким переплетением, плотны, упруги, но жестковаты. В пошиве эти ткани сложны, так как обладают повышенной осыпаемостью и прорубаемостью иглой, трудно поддаются влажно-тепловой обработке.

- а) гребенные ткани;
- б) среднесуконные;
- в) грубосуконные;
- г) тонкосуконные;
- д) шёлковые ткани.

ОТВЕТ А 7 кл. с.107

ВСЕГО максимально 1 балл

11. Выберите правильный вариант ответа.

Как называется одна из вариаций наперона, представляющую собой длинную узкую скатерть, выкладываемую поверх основной.

- а) мулетон;
- б) раннер;
- в) наперон;
- г) подтарельник;
- д) ланчмат

ОТВЕТ Б 6 кл. с.91

ВСЕГО максимально 1 балл

12. Обведите кружочком номера правильных ответов:

Атласным переплетением из шелка производят ткани:

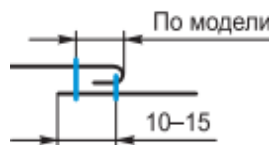
- а) ластик;
- б) корсетные ткани;
- в) сатин-дубль;
- г) креп-сатин;
- д) костюмные ткани.
- е) атлас.

ОТВЕТ Б; Г; Е 7 кл. с.108

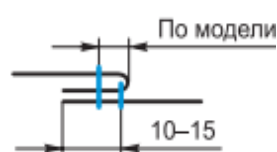
ВСЕГО максимально 1 балл (за каждый правильный ответ 0,33 балла)

13. Укажите графическое изображение настрочного шва с одним закрытым срезом.

а)



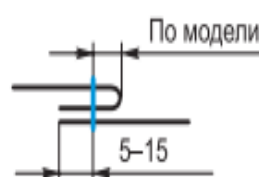
в)



б)



г)



ОТВЕТ А 9 кл. с.127

ВСЕГО максимально 1 балл

14. Выберите правильный вариант ответа.

К краевому шву относится:

- а) накладной шов с открытыми срезами;
- б) настрочной шов с открытыми срезами;
- в) накладной шов с двумя закрытыми срезами;
- г) настрочной шов с одним закрытым срезом;
- д) шов в подгибку с открытым срезом.

ОТВЕТ Д 9 класс с.129

ВСЕГО максимально 1 балл

15. Дополните предложения, вставляя нужные слова.

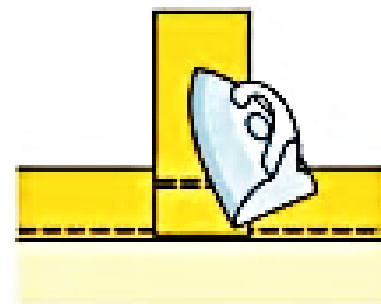
Регулятор натяжения верхней нитки предназначен для регулировки изменения натяжения \_\_\_\_\_. При повороте регулятора \_\_\_\_\_ натяжение увеличивают, \_\_\_\_\_ -уменьшают. Регулировку натяжения верхней нитки выполняют при \_\_\_\_\_ лапке.

ОТВЕТ Верхней нитки; по часовой стрелке (или вниз); против часовой стрелке (или вверх); опущенной. 7 кл. с.148

ВСЕГО максимально 1,5 балла, за каждый правильный ответ 0,375

16. На рисунке изображена влажно-тепловая обработка соединения петли с изделием. Укажите какой вид влажно-тепловой обработки изображен на рисунке.

- а) разутюживание;
- б) заутюживание;
- г) приутюживание;
- д) отутюживание;
- е) проутюживание.



ОТВЕТ Г 7 кл. с.174

ВСЕГО максимально 1 балл



21. Соотнесите название стиля и его характеристику.

Стиль	Характеристика стиля
1. Аутентичный стиль	А) Свободная форма, наличие карманов, пояса, манжет, складок. Использование графических рисунков, логотипов.
2. Романтический стиль	Б) Производится полная реконструкция швейных изделий по конструкции, декору, используемым материалам, технологии изготовления. Изделия изготавливаются без современного швейного оборудования.
3. Классический стиль	В) Наличие кокеток, карманов, клапанов, обилие декоративных строчек, специальная фурнитура.
4. Стиль милитари	Г) Подчеркнутая строгость и подтянутость формы, минимальное количество простых и лаконичных деталей.
5. Спортивный стиль	Д) Разнообразие и декоративность форм и деталей, сложная конструкция, нарядность отделки.

1- \_\_, 2- \_\_, 3- \_\_, 4- \_\_, 5- \_\_.

ОТВЕТ 1-б, 2-д, 3-г, 4-в, 5-а. 9 класс с.92-95

ВСЕГО максимально 1,5 балла, за каждый правильный ответ по 0,3 балла.

22. Какая из предложенных лапок предназначена для выполнения шва в подгибку с закрытым срезом:



А



Б



В



Г



Д

ОТВЕТ А 8 кл.

ВСЕГО максимально 1 балл

23. Установите соответствие между обозначением и его определением.

Обозначение	Определение
1. Модель	А) Изображение изделия с точной передачей пропорций и конструктивных особенностей одежды.
2. Эскиз	Б) Графическое изображение будущего изделия на бумаге с помощью чертежных инструментов.
3. Чертеж	В) Детальная разработка модели с помощью различного покроя, швов, складок и др.
4. Фасон	Г) образец изделия в виде рисунка, фотографии, готового изделия.

5. Технический рисунок	Д) Предварительный набросок изделия, условное изображение, выполненное от руки, но с выдержанными на глаз пропорциями.
------------------------	--

1- \_\_\_\_, 2- \_\_\_\_, 3- \_\_\_\_, 4- \_\_\_\_, 5- \_\_\_\_.

ОТВЕТ 1-г, 2-д, 3-б, 4-в, 5-а. 5 класс с.82, 89; 8 класс с.78; 84

ВСЕГО максимально 1,5 балла, за каждый правильный ответ по 0,3 балла.

24. При соединении деталей кроя стачным швом срезы припусков на швы обрабатывают, чтобы они не осыпались. Приведите примеры трех различных способов обработки срезов стачного шва.

Ответ: \_\_\_\_\_  
\_\_\_\_\_  
\_\_\_\_\_

*Ответ: например: ручными стежками, зигзагообразной строчкой, на краеобметочной машине (оверлоке), швом вподгибку с открытым срезом, тесьмой, окантовочным швом. Принимать ответ, в котором перечислено не менее 3-х способов.*

25. Разработайте новогодний декор салфетки (размер декора 6 х 6 см) с использованием желтого, розового, голубого и 2-х оттенков зеленого цветов ниток мулине.

Укажите какие декоративные швы и гладь Вы будете применять. Ответ обоснуйте.